

RÉPONSES HISTOIRE

1. Réponse B : une cloche du Moyen Âge. C'était la cloche d'une chapelle dédiée à Saint Jacques. La chapelle a ensuite été détruite et remplacée par une école en 1840. La cloche, qui date du XV^e siècle a été conservée et se trouve encore aujourd'hui dans le bâtiment, situé au sentier de la Gare 9.

2. Réponse A : les deux rivières qui traversent la ville. Le drapeau porte le symbole de deux rivières qui traversent Renens. La première, le ruisseau de Broye, délimite l'Est de la commune et la seconde, la rivière la Mèbre, en délimite l'Ouest. À noter qu'un autre cours d'eau, le ruisseau des Baumettes, traverse également Renens mais ne figure pas sur cet écusson.

3. Réponse D : l'arrivée du chemin de fer et de la gare. La ville a pris son envol au début du XX^e siècle, grâce à l'arrivée du chemin de fer : la gare de Renens a été inaugurée en 1856, suite à la mise en service de la ligne de train Morges — Yverdon-les-Bains. La gare de triage de Renens est inaugurée en 1876. Dès lors, de grandes usines s'installent à Renens comme par exemple l'entreprise Mallefer, présente à Renens de 1929 à 1964 et actuellement à Ecublens, et l'usine de bas et collants Irl qui ferma ses portes en 2002.

4. Réponse A : la fin des années cinquante. En Suisse, une commune est considérée comme « ville » à partir de 10'000 habitant-e-s. Renens est passée d'un stade de petit village agricole de 433 habitant-e-s en 1860, puis 1279 en 1900 pour ensuite dépasser les 21'000 habitant-e-s à ce jour. La ville comme la région s'est énormément développée dès le XX^e siècle avec l'arrivée des chemins de fer. De nombreuses industries s'y sont installées faisant appel à une importante main-d'œuvre étrangère, contribuant à l'essor de la ville.

5. Réponse D : en 1940. Dans la nuit du 11 au 12 juin 1940, la gare de Renens est bombardée par des avions anglais de retour d'une mission sur les usines Fiat de Turin. L'attaque, qui fait deux morts et huit blessés, est due à une erreur de navigation des équipages (d'autres bombes tombent sur Genève). Le gouvernement britannique présentera ses regrets et versera un dédommagement de 1,2 million de francs de l'époque.

6. Réponse C : la vigne.

7. Réponse B : L'ECAL. L'Ecole Cantonale d'Art de Lausanne (ECAL) propose à ses étudiants des filières d'études dans le domaine des arts et de design. Classée dans le top 10 des meilleures universités d'art et de design du monde, cette école dispense à ses élèves des connaissances solides et des expériences stimulantes orientées vers la pratique. L'usine de collants Irl a fermé ses portes en 2002. L'ECAL a repris le bâtiment et y a ouvert ses portes en 2007.

8. Réponse A : du 18^e siècle. Le château de Renens se trouve à l'avenue du Château. Il ne faut pas le confondre avec le Château de Renens-sur-Roche qui n'a jamais entraîné de droits féodaux. Ce dernier se situe au chemin de la Roche et abrite aujourd'hui la Fédération internationale de tennis de table. Ces deux bâtiments sont aujourd'hui privés et ne peuvent être visités.

Édité par le Secteur intégration de la Ville de Renens (2022)
design@integration@renens.ch

QUESTIONS NATURALISATION VILLE DE RENENS HISTOIRE GÉOGRAPHIE

RÉPONSES GÉOGRAPHIE

1. Réponse B : entre 20'000 et 25'000 habitant-e-s. C'est en 2017 que Renens a passé le cap des 20'000 habitant-e-s.

2. Réponse D : 122 nationalités. La population étrangère représente un peu plus du 50 % de la population totale.

3. Réponse C : Le Rayon vert.

4. Réponse C : un chemin éducatif qui présente différents quartiers de Renens.

5. Réponse C : la Mèbre, le ruisseau de Broye et le ruisseau des Baumettes. La Mèbre et le ruisseau de Broye sont les deux cours d'eau représentés sur l'écusson de Renens.

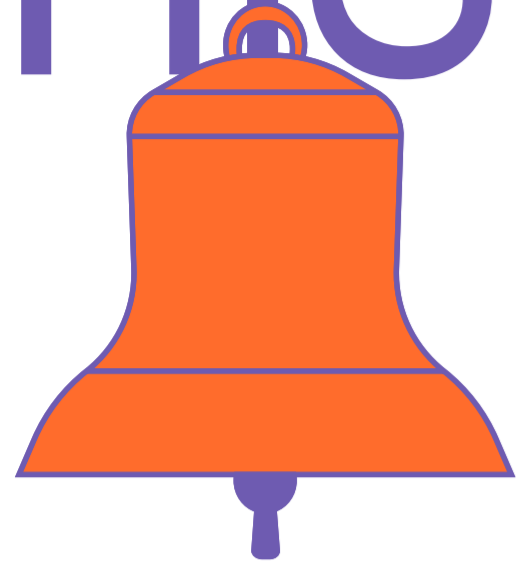
6. Réponse A : Chavannes-près-Renens, Crissier, Ecublens, Jouxtiens-Mézery, Lausanne, Prilly.

7. Réponse D : les Renanais et les Renanaises. En bonus, les habitant-e-s des communes de l'ouest lausannois : Bussigny : les Bussignolaises & Bussignolais Chavannes : les Chavannoises & Chavannois Crissier : les Crissiroises & Crissirois Ecublens : les Ecublanaises & Ecublanaïses Prilly : les Prillérans & Prillérannes Saint-Sulpice : le Serpellouises & Serpellous Villars-Sainte-Croix : les Cancroises

8. Réponse B : le chef-lieu. Etre le chef-lieu signifie que Renens est la ville centrale du district de l'Ouest lausannois. Un canton est divisé en plusieurs districts. Ce sont des circonscriptions administratives, électorales ou judiciaires qui se situent entre le niveau cantonal et le niveau communal.


Le canton de Vaud compte 10 districts : Lausanne (chef-lieu Lausanne) Ouest lausannois (chef-lieu Renens) Gros-de-Vaud (chef-lieu Echallens) Lavaux — Oron (chef-lieu Cully) Riviera — Pays-d'Enhaut (chef-lieu Vevey) Aigle (chef-lieu Aigle) Morges (chef-lieu Morges) Nyon (chef-lieu Nyon) Broye — Vully (chef-lieu Payerne) Jura — Nord vaudois (chef-lieu Yverdon-les-Bains)

HISTOIRE



1
Quel trésor historique se cache au collège de Renens-Village ?

- A. La Prune verte de Verdeaux
- B. Une cloche du Moyen Âge
- C. La statue du Major Davel
- D. Un canon du 19^e siècle



2
Que représentent les deux bandes blanches sur le drapeau de Renens ?

- A. Les deux rivières qui traversent la ville
- B. Deux personnages célèbres de Renens
- C. Deux routes (avenue du 14-Avril et rue de Lausanne)
- D. Deux bâtiments de l'administration communale situés à la rue de Lausanne




3
Quel a été l'élément le plus important pour le développement de Renens ?

- A. L'arrivée de l'autoroute
- B. L'aménagement de la Place du marché
- C. L'arrivée de l'école cantonale d'art de Lausanne
- D. L'arrivée du chemin de fer et de la gare

4
Depuis quand Renens est-elle une ville ?

- A. 1960
- B. Le début du 21^e siècle
- C. Le milieu des années quatre-vingt
- D. Le 1^{er} janvier 2018



5
Quand la gare de Renens a-t-elle été attaquée ?

- A. Au Moyen Âge
- B. À la fin du 19^e siècle
- C. En 1920
- D. En 1940

Quelle plante était principalement produite à Renens jusqu'au 19^e siècle ?

- A. Le maïs
- B. Le blé
- C. La vigne
- D. Le bambou

7
Comment s'appelle l'école qui s'est installée dans les anciens locaux de l'usine de collants Iril ?

- A. L'école romande d'arts et communication (éracom)
- B. L'école cantonale d'art de Lausanne (ECAL)
- C. L'école supérieure de la santé (ESSanté)
- D. L'école hôtelière de Lausanne



8
De quand date le château de Renens ?

- A. Du 18^e siècle
- B. Du Moyen Âge
- C. De la Renaissance
- D. Du 20^e siècle

GEOGRAPHIE



1
Combien compte-t-on d'habitant-e-s à Renens ?

- A. Moins de 20'000 habitant-e-s
- B. Entre 20'000 et 25'000 habitant-e-s
- C. Entre 25'000 et 30'000 habitant-e-s
- D. Plus de 30'000 habitant-e-s

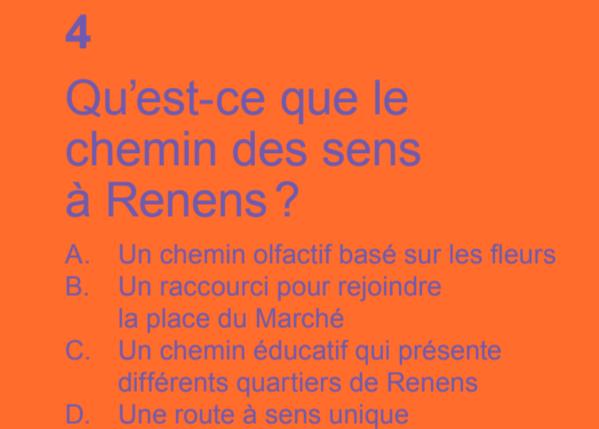


2
Combien de nationalités comptait-on dans la commune de Renens au 31 décembre 2021 ?

- A. 55 nationalités
- B. 98 nationalités
- C. 100 nationalités
- D. 122 nationalités

3
Comment s'appelle la passerelle qui relie la place Nord à la place Sud de la gare de Renens ?

- A. La Voie Végétale
- B. Le Passage aérien
- C. Le Rayon vert
- D. Le Trait d'union



4
Qu'est-ce que le chemin des sens à Renens ?

- A. Un chemin olfactif basé sur les fleurs
- B. Un raccourci pour rejoindre la place du Marché
- C. Un chemin éducatif qui présente différents quartiers de Renens
- D. Une route à sens unique



5
Lesquels de ces cours d'eau traversent Renens ?

- A. Le Rhône et le ruisseau d'Ependes
- B. L'Orbe et la Venoge
- C. La Mèbre, le ruisseau de Broye et le ruisseau des Baumettes
- D. La Chamberonne et la Venoge

6
Quelles sont les communes autour de Renens ?

- A. Chavannes-près-Renens, Crissier, Ecublens, Jouxens-Mézery, Lausanne, Prilly
- B. Bussigny, Crissier, Ecublens, Prilly, St-Sulpice
- C. Chavannes-près-Renens, Ecublens, Lausanne, Pully
- D. Crissier, Echandens, Lausanne, Prilly, Villars-St-Croix

7
Quel nom portent les habitant-e-s de Renens ?

- A. Les Renonçois et les Renonçoises
- B. Les Renuriens et les Renuriennes
- C. Les Reniens et les Reniennes
- D. Les Renanais et les Renanaises

8
Quel est le mot manquant pour compléter la phrase : « Renens est... du district de l'Ouest lausannois »

- A. La capitale
- B. Le chef-lieu
- C. Un quartier
- D. L'agglomération